



MAMINKA BYLA NAKUPOVAT
A UTRATILA ZA NÁKUP 1000,- KČ
NAJDI STEJNOU PAPIROVOU BANKOVKU
A ZAKROUŽKUJ JI.



KLUCI SI KOUPILI ROHLÍKY. PEPŮV ROHLÍK STÁL 2,- KČ. VAŠKŮV ROHLÍK STÁL 1,-
KČ. ROZHODNI, KTERÝ Z KLUKŮ ZAPLATIL VÍCE? ZAKROUŽKUJ TOHO, KTERÝ
ZAPLATIL VÍCE KORUN.


VAŠEK



PEPA



DŽUS STOJÍ 20,- KČ. NAJDEŠ STEJNOU MINCI? SPOJ SE STEJNOU MINCÍ.



ROZDĚL MINCE DO PYTLÍKU A BANKOVKY DO PENĚŽENKY

